
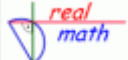



Bestimme die fehlenden Werte. Ein Hefteintrag zu <http://www.realmath.de/Neues/Klasse6/prozentrechnung/prozentkombi.html>

	1.	2.	3.	4.	5.	6.	7.	8.	9.	10.
Bruch	$\frac{2}{5}$	$\frac{1}{4}$				$\frac{6}{10}$		$\frac{1}{2}$		
Nenner 100	$\frac{40}{100}$		$\frac{20}{100}$							
Dezimalbruch	0,40			0,25					1,2	
Prozentangabe	40%				35%		150%			70%

	1.	2.	3.	4.	5.	6.	7.	8.	9.	10.
Bruch	$\frac{2}{5}$	$\frac{1}{4}$				$\frac{6}{10}$		$\frac{1}{2}$		
Nenner 100	$\frac{40}{100}$		$\frac{20}{100}$							
Dezimalbruch	0,40			0,25					1,2	
Prozentangabe	40%				35%		150%			70%

	1.	2.	3.	4.	5.	6.	7.	8.	9.	10.
Bruch	$\frac{2}{5}$	$\frac{1}{4}$				$\frac{6}{10}$		$\frac{1}{2}$		
Nenner 100	$\frac{40}{100}$		$\frac{20}{100}$							
Dezimalbruch	0,40			0,25					1,2	
Prozentangabe	40%				35%		150%			70%