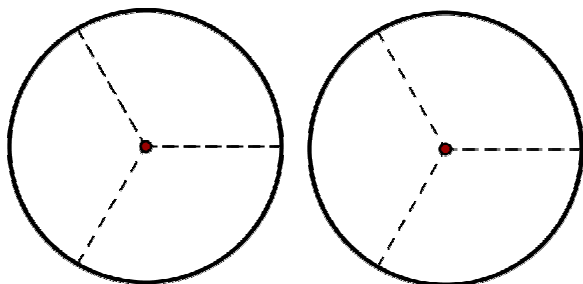
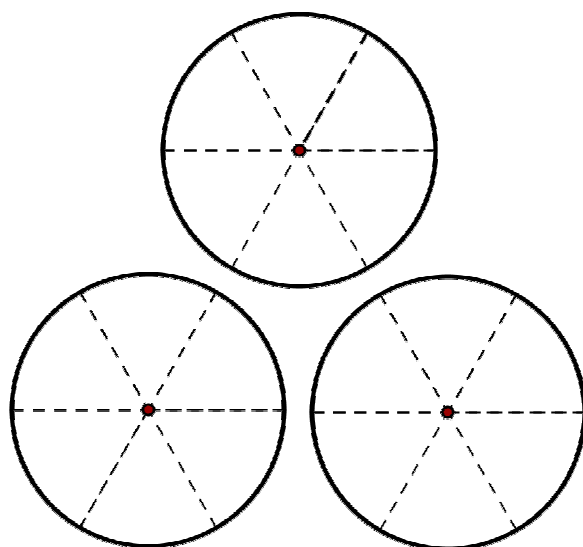


## Bruch als Teil mehrerer Ganzer

Arbeitsblatt zur Webseite: <http://www.realmath.de/Neues/Klasse6/bruchteil/mehrereganze.html>



Drei Freunde gehen gemeinsam Pizza-Essen.  
Da die Pizzen so groß sind, bestellen Sie nur zwei.  
Jeder erhält: -----  
Markiere den Bruchteil, den jeder bekommt in jeweils einer anderen Farbe.



Erfinde eine Pizza-Geschichte. Beachte dabei die Unterteilung der Pizza.

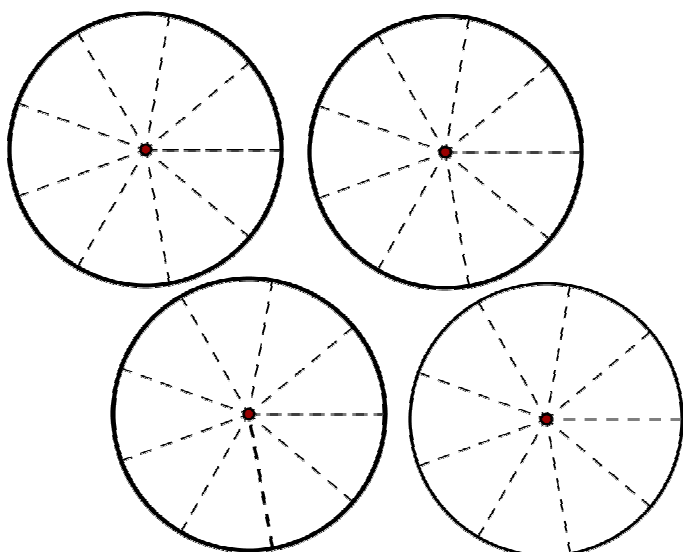
---

---

---

---

---



Erfinde eine Pizza-Geschichte. Beachte dabei wieder die Unterteilung der Pizza.

---

---

---

---

---

---