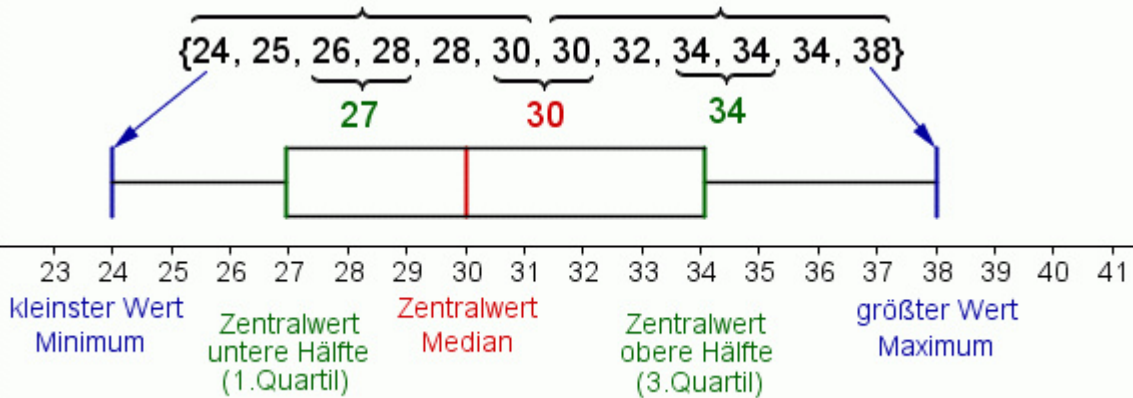


Wie zeichne ich einen Boxplot?



1. Ordne die Daten der Größe nach ...
2. Bestimme das Minimum und Maximum ...
3. Bestimme den Zentralwert der unteren Hälfte ...
4. Bestimme den Zentralwert der oberen Hälfte ...
5. Zeichne die Box ...
6. Bestimme den Zentralwert ...



{24, 27, 28, 28, 29, 30, 32, 32, 35, 35, 36, 37}

22 23 24 25 26 27 28 29 30 31 32 33 34 35 36 37 38 39 40

{24, 24, 26, 26, 27, 30, 30, 31, 32, 36, 36, 36, 37, 38}

22 23 24 25 26 27 28 29 30 31 32 33 34 35 36 37 38 39 40

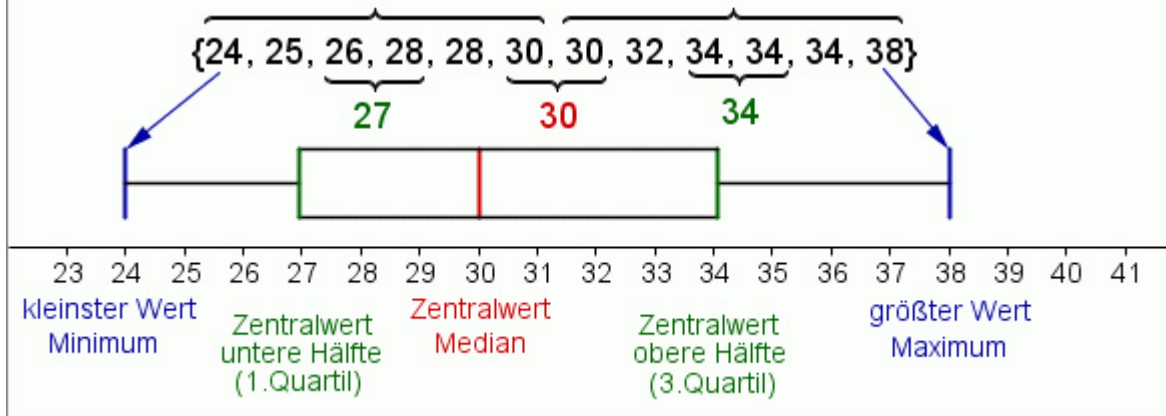
{23, 23, 24, 26, 29, 30, 31, 33, 34, 34, 36, 36, 36, 37}

22 23 24 25 26 27 28 29 30 31 32 33 34 35 36 37 38 39 40

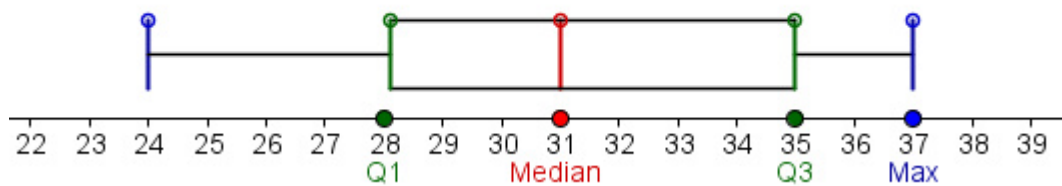
Wie zeichne ich einen Boxplot?



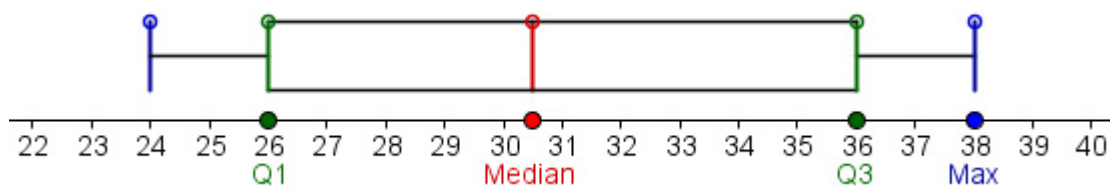
1. Ordne die Daten der Größe nach ...
2. Bestimme das **Minimum** und **Maximum** ...
3. Bestimme den **Zentralwert der unteren Hälfte** ...
4. Bestimme den **Zentralwert der oberen Hälfte** ...
5. Zeichne die **Box** ...
6. Bestimme den **Zentralwert** ...



{24, 27, 28, 28, 29, 30, 32, 32, 35, 35, 36, 37}



{24, 24, 26, 26, 27, 30, 30, 31, 32, 36, 36, 36, 37, 38}



{23, 23, 24, 26, 29, 30, 31, 33, 34, 34, 36, 36, 36, 37}

